

Õpilase nimi \_\_\_\_\_

Kool \_\_\_\_\_ Geograafiaõpetaja \_\_\_\_\_

1. Taasiseseisvunud Eesti Vabariik sai 20. augustil 20-aastaseks. Teekond maailma poliitilises ja majanduselus on olnud seotud mitmete etappidega. Leia ajalistele daatumitele sündmuste loetelust õige vaste:  5p

*NATO liige; WTO liige; ÜRO liige; Schengeni leping; Eesti kroon; eurosooni liige; Euroopa Liidu liige; Vene väed lahkuvad Eestist.*

- 17.09.1991: ..... 20.06.1992: .....
- 31.08.1994: ..... 13.11.1999: .....
- 02.04.2004: ..... 01.05.2004: .....
- 21.12.2007: ..... 01.01.2011: .....

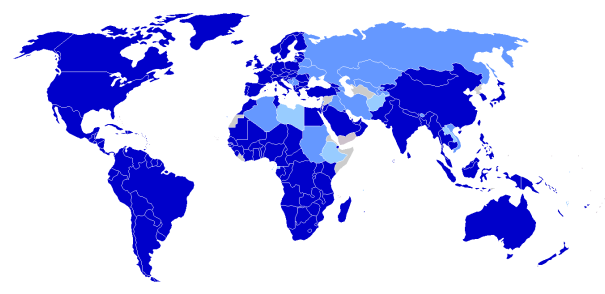
Mis on Schengeni lepingu sisu? .....

2. Mis organisatsioonide liikmesriike, kuhu ka Eesti kuulub, kaardid kujutavad? Kirjuta organisatsiooni nimi kaardi alla.  4p



.....

.....



.....

.....

3. Mis looduslikesse regioonidesse / valdkondadesse Eesti kuulub? Lisa selgitus, mis sellega kaasneb.  6p

Looduslik regioon	Mõju Eesti loodusele

4. Mõlemad pildid on tehtud piirkonnast, millega on seotud nimed Alar Sikk ja Sagarmatha.

3p

Nimeta piirkond: .....

Mis on Sagarmatha enamlevinud nimed? .....

Miks kutsutakse teda ka kolmandaks pooluseks? .....

Selgita kahe teguri mõju selle piirkonna looduolude kujunemisele.

4p



1) .....

1) .....

2) .....

2) .....

5. Rühmita toodud mõisted vastavalt loodusvööndile, kus nad kõige iseloomulikumad on.

8p

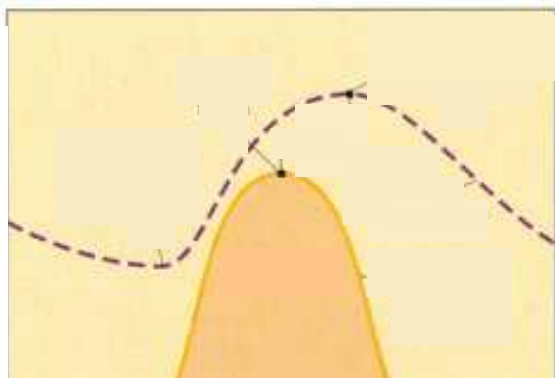
SAHEL, TAIGA, ALEPÖLLUNDUS, LEETUMINE, PREERIA, BATAAT, KÕRBESTUMINE, KAUBOI, NÄLJAVÖÖND, MUSTMULD, LIAAN, IGIKELTS.

LOODUSVÖÖND				
MÕISTED				

6. Joonis kujutab päikesekiirguse ja õhutemperatuuri muutust ööpäevas.

5p

Kirjuta nimetatud näitaja vastava tingmärgi juurde.



Mis erinevused ilmnevad? .....

Mis on selle põhjuseks? .....

---  
 \_\_\_\_\_

.....  
 .....  
 .....  
 .....  
 .....  
 .....  
 .....

7. Mis protsessi on koomiksil kujutatud?  4p



„Mõnda aega me sobisime, kuid viimase 50 miljoni aasta jooksul oleme lahku kasvanud ...”

Mis on selle tekkepõhjuseks? .....

Mis nähtused kaasnevad? 1) .....

2) .....

3) ..... 4) .....

8. Eesti asub Ida-Euroopa platvormil. Milliseid platvormi kihte pildid kujutavad?  5p



Milline neist pildidest kujutab Soome aluspõhja?

Soome aluspõhja kujutab pilt .....

Selgita, miks Sa nii otsustasid :

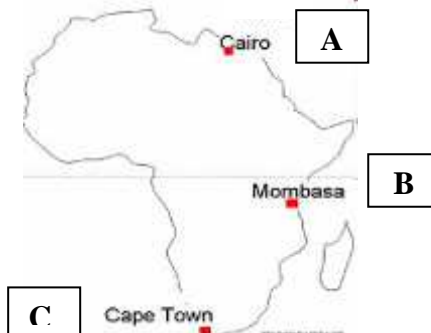
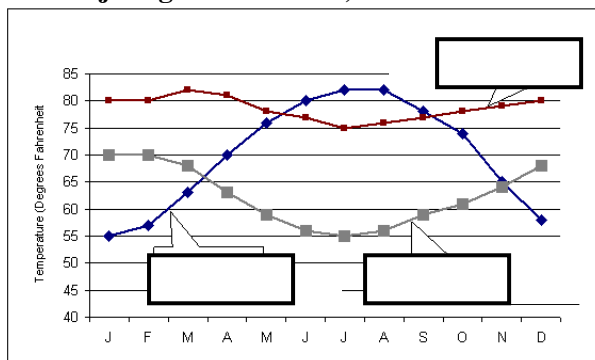
Mis tegurite koosmõjul on Soome aluspõhi sellise üldilme omandanud?

9. Mis ja miks ei sobi loetellu: VÕRTSJÄRV, MARIMETSA RABA, VÄINAMERI, BRIKSDALI LIUSTIK, PÄRNU JÕGI, SINIALLIKAS, SUTLEPA MERI

....., sest  2p

10. Graafikul on kujutatud aastast temperatuurikäiku Aafrika erinevates piirkondades. Kirjuta graafikule täht, mis vastab kaardil toodud paiga temperatuuri muutustele.

4p



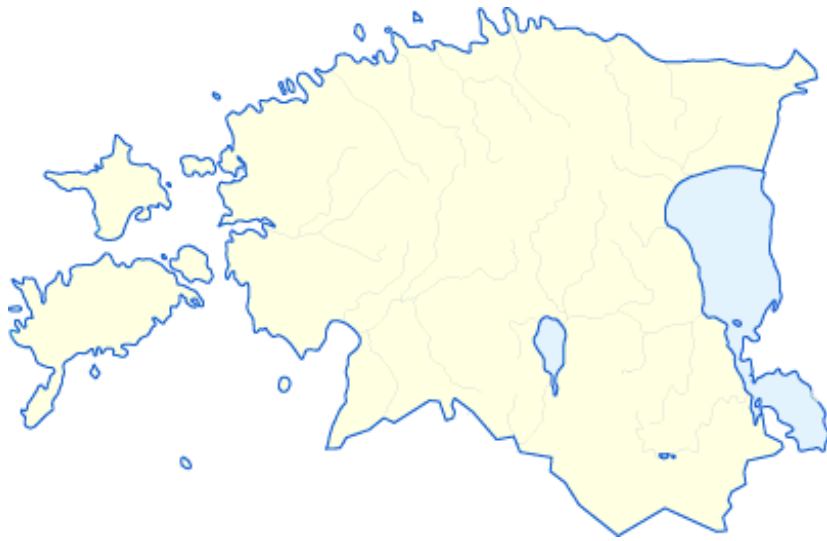
Põhjenda, miks nii otsustasid:

A - .....

B - .....

C - .....

11. Tähistä kaardil kohad, kus pildid on tehtud.



2p



12. Mida on piltidel kujutatud?  3p

Kumb neist on tehtud 8. oktoobril? .....

Selgita:



13. Mis objektid on NASA fotodel?

1: .....

2: .....

Mille poolt on need objektid sarnased?

2p  
 8p

Millepoolest need objektid erinevad? Selgita erinevuste põhjuseid.

Erinevus	Põhjus

KOKKU 65 PUNKTI